



Русский язык-4	Математика-4	Окружающий мир-4	Русский язык-5	Математика-5	Биология-5	История-5
Русский язык-6	Математика-6	История-6	Обществознание-6	Биология-6	География-6	Английский язык-11
Физика-11	Химия-11	Биология-11	География-11	История-11	Немецкий язык-11	Французский язык

Реклама от Google

Решение

Решу оэ

11 класс

Егэ 2018

- О работе
- Каталог заданий
- Ученику
- Учителю
- Школа
- Сказать спасибо
- Вопрос — ответ

Поиск по тексту задания

Электронная почта

Пароль

Войти

Зарегистрироваться
Восстановление пароля
Войти через ВКонтакте

НОВОСТИ

К концу марта
Откроем оставшиеся предметы

12.03.2018
Открыли французский и немецкий языки для 11 класса.

10.03.2018
Открыли английский язык 11 класс в режиме тестирования!

08.03.2018
Открыли историю 6 класс в режиме тестирования.

19.02.2018
Открыли математику 6 класс в режиме тестирования.

17.02.2018
Открыли русский язык 6 класс в режиме тестирования.

08.02.2018
Скоро откроем математику 6 класс!

Сказать спасибо

Все новости

Семенова, не воруй!

Подписаться

Яндекс.Директ



Станьте богатым репетитором!

Три простые технологии увеличения заработка частного преподавателя.

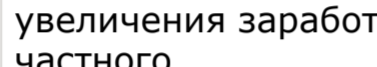
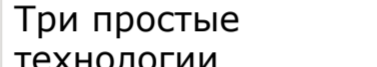
2educate.ru



Любите научные олимпиады?

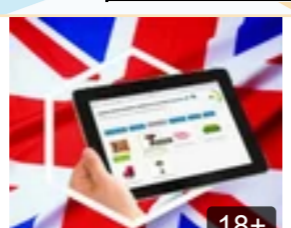
Школа «Летово» - образование мирового уровня для способных детей! Прием заявок

letovo.ru



Купите сейчас

83% Сделайте свое приложение доступным для рекламодателей со всего мира



Занятия английским по Скайпу

Онлайн Курсы. Занятие 520 руб. за 60 мин. Запишись на бесплатный урок!

Перейти

Яндекс.Директ

Вариант № 37561

Работа содержит 11 заданий. В заданиях 1, 2, 4, 5.1, 6.1, 6.2, 7, 9.1, 9.2 необходимо записать только ответ. В заданиях 5.2 и 10 нужно изобразить требуемые элементы рисунка. В заданиях 3, 8, 11 требуется записать решение и ответ

Если вариант задан учителем, вы можете вписать ответы на задания части С или загрузить их в систему в одном из графических форматов. Учитель увидит результаты выполнения заданий части В и сможет оценить загруженные ответы к части С. Выставленные учителем баллы отобразятся в вашей статистике.

Версия для печати и копирования в MS Word

Времени прошло: 0:00:09

Времени осталось: 0:44:51

Пауза

1 Задание 1 № 116
Найдите значение выражение $76 - 28$.

Ответ:

2 Задание 2 № 26
Найди значение выражения $7 + 3 \cdot (8 + 12)$.

Ответ:

3 Задание 3 № 37
Рассмотри рисунок и ответь на вопрос: сколько рублей сдачи получит покупатель, расплатившийся за пакет молока и батон хлеба купюрой в 100 рублей?




Запиши решение и ответ.

Решения заданий части С не проверяются автоматически. На следующей странице вам будет предложено проверить их самостоятельно.

4 Задание 4 № 288
Когда в Москве полдень, в Красноярске 4 часа дня. Сколько времени в Москве, когда в Красноярске 2 часа ночи?


Ответ:

5 Задание 5.1 № 152
На рисунке изображен прямоугольник. Найди его периметр, если сторона одной клетки равна 1 см.



Ответ:

6 Задание 5.2 № 548
На рисунке ниже изображена фигура.



Найди периметр этой фигуры, если сторона клетки — 1 см.

Решения заданий части С не проверяются автоматически. На следующей странице вам будет предложено проверить их самостоятельно.

7 Задание 6.1 № 186
Ниже приведены данные за три года о количестве дождливых дней в июне-октябре в Старом Осколе. Используя эти данные, ответь на вопрос.

Месяц	2013 год	2014 год	2015 год
Июнь	11	6	8
Июль	8	3	8
Август	9	5	0
Сентябрь	13	4	1
Октябрь	7	3	5

Сколько дождливых дней было в Старом Осколе в сентябре 2014 года?

Ответ:

8 Задание 6.2 № 612
В таблице приведены данные о количестве девочек и мальчиков в пяти четвёртых классах школы. Используя эти данные, ответь на вопросы.

	Количество школьников				
	4 «А»	4 «Б»	4 «В»	4 «Г»	4 «Д»
Мальчики	13	10	15	16	17
Девочки	15	14	14	12	9

В каком классе больше всего учеников?

Ответ:

9 Задание 7 № 353
Найди значение выражения $33033 : 11 - 450 \cdot 2$.

Ответ:

10 Задание 8 № 399
Двенадцать каменщиков построили первый этаж детского сада за 28 дней. Чтобы ускорить окончание работы, на строительство второго этажа, точно такого же по размерам, прораб стройки пригласил ещё несколько каменщиков из другой бригады. Сколько каменщиков пригласил прораб, если второй этаж был построен за 16 дней? Запиши решение и ответ.

Решения заданий части С не проверяются автоматически. На следующей странице вам будет предложено проверить их самостоятельно.

11 Задание 9.1 № 122
Изюм, орехи, конфеты и мармелад лежат в четырёх непрозрачных банках с надписями «изюм или орехи», «конфеты или изюм», «мармелад или конфеты», «орехи или мармелад». Пете известно, что содержимое каждой из банок не соответствует сделанной на ней надписи. Открыв банку с надписью «орехи или мармелад», Петя увидел, что в ней лежит изюм.

В банке с какой надписью лежат конфеты?

Ответ:

12 Задание 9.2 № 587
В первой половине дня мама должна успеть сходить на почту, в магазин и в аптечный киоск, а в 13 ч 30 мин встретить сына-первоклассника около школы. В магазине обеденный перерыв с 13 до 14 ч, аптечный киоск в первой половине дня работает только до 12 ч, а почта открывается только в 12 ч 30 мин. Мама хочет спланировать дела так, чтобы успеть посетить почту, магазин и аптеку перед тем, как пойти в школу.

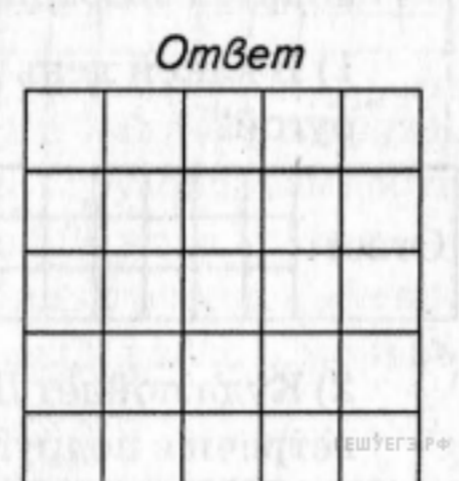
Куда пойдёт мама после того, как сделает покупки в магазине?

Ответ:

13 Задание 10 № 114
Из большого куба Катя вырезала 4 маленьких, кубика так, как показано на данном ниже рисунке. Затем она окрасила одну из сторон получившейся фигуры краской и сделала её отпечаток на листе бумаги.



Изобрази отпечаток, который получился у Кати, если она окрашивала ту сторону, на которую указывает стрелка. Один кубик следует изображать одной клеткой.



Решения заданий части С не проверяются автоматически. На следующей странице вам будет предложено проверить их самостоятельно.

14 Задание 11 № 459
В лесу на разных кустах висят 150 шнурков. Сова утверждает, что в среднем два шнурка из трёх, которые можно найти в лесу, ей не подходят, поскольку они слишком длинные для дверного звонка. Ослик же утверждает, что в среднем три из пяти шнурков из леса ему не подходят, поскольку они слишком короткие, чтобы сделать из них хвост. Оба правы. Сколько шнурков, висящих на кустах, не подходят ни Сове, ни Ии? Найди наименьшее возможное число. Запиши решение и ответ.

Решения заданий части С не проверяются автоматически. На следующей странице вам будет предложено проверить их самостоятельно.

Времени прошло: 0:00:09

Времени осталось: 0:44:51

Завершить тестирование, свериться с ответами, увидеть решения; если работа задана учителем, она будет ему отправлена.

Сохранить



Ищете работу?

Разместите своё резюме на Avito avito.ru

Станьте богатым репетитором!

2educate.ru >

Участвуете в олимпиадах?

letovo.ru >

Обучение ментальной арифметике!

lp.smartykids.ru >

Sale 65% на Платья S Max Mara

boscooutlet.ru >